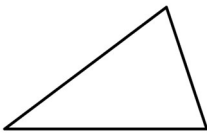

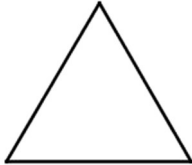
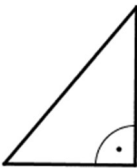
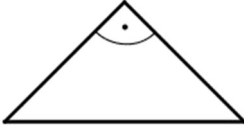
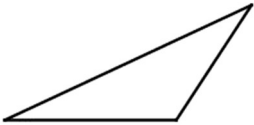
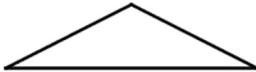




		Einteilung nach Seiten		
		Dreiecke	Dreiecke	Dreiecke
Einteilung nach Winkeln	Dreiecke			
	Dreiecke			
	Dreiecke			

## Übungen zum Dreieck



Versuche folgende Fragen zu beantworten:

1. Welche Seite liegt dem Winkel  $\gamma$  gegenüber? \_\_\_\_\_
2. Welcher Winkel wird von den Seiten  $b$  und  $c$  eingeschlossen? \_\_\_\_\_
3. Welche Seiten kommen im Eckpunkt C zusammen? \_\_\_\_\_
4. Welche Seite liegt zwischen den Eckpunkten A und C? \_\_\_\_\_
5. Welcher Eckpunkt liegt der Seite  $a$  gegenüber? \_\_\_\_\_
6. Welche Seite liegt zwischen den Eckpunkten B und C? \_\_\_\_\_
7. Welche Seiten schließen den Winkel  $\beta$  ein? \_\_\_\_\_
8. Welcher Winkel liegt der Seite  $b$  gegenüber? \_\_\_\_\_